

Grundbegriffe der Informatik — Aufgabenblatt 10

Lösungsvorschläge

Matr.nr.:

Nachname:

Vorname:

Tutorium Nr.: Tutor*in:

Ausgabe: 20. Dezember 2019

Abgabe: 14. Januar 2020, 12:30 Uhr
im GBI-Briefkasten im Untergeschoss
von Gebäude 50.34

Lösungen werden nur korrigiert, wenn sie

- rechtzeitig,
- in Ihrer eigenen Handschrift,
- mit dieser Seite als Deckblatt und
- in der oberen **linken** Ecke zusammengeheftet abgegeben werden.

Vom Tutor auszufüllen:

erreichte Punkte

Blatt 10: / 21

Blätter 7 – 10: / 80

Aufgabe 10.1 (1 + 1 + 2 = 4 Punkte)

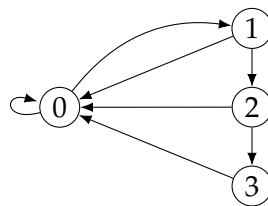
Es sei R ein zweistelliges Relationssymbol. Ferner seien die folgenden prädikatenlogischen Formeln gegeben:

- a) $F_1 = \exists x \forall y R(y, x)$
- b) $F_2 = \exists x (R(x, x) \wedge \forall y R(x, y))$
- c) $F_3 = \exists x \forall y (\neg y \doteq x \rightarrow \forall z (R(x, y) \wedge (R(y, z) \rightarrow x \doteq z)))$

Geben Sie für $i \in \{1, 2, 3\}$ einen gerichteten und streng zusammenhängenden Graphen $G_i = (V_i, E_i)$ mit 4 oder 5 Knoten (d. h. $4 \leq |V_i| \leq 5$) sowie höchstens 10 Kanten (d. h. $|E_i| \leq 10$) an, sodass die Interpretation (D_i, I_i) mit $D_i = V_i$ und $I_i(R) = E_i$ Modell von F_i ist. Begründen Sie jeweils, warum (D_i, I_i) tatsächlich Modell von F_i ist.

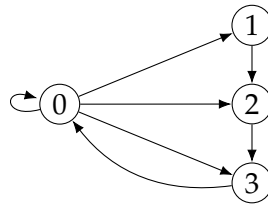
Lösung 10.1

a) G_1 :



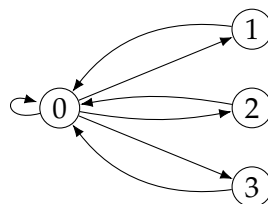
Das ist Modell von F_1 , weil für jeden Knoten $v \in V_1$ gilt: $(v, 0) \in E_1$.

b) G_2 :



Das ist Modell von F_2 , weil $(0, 0) \in E_2$ ist und $(0, v) \in E$ für jedes $v \in E_2$ gilt.

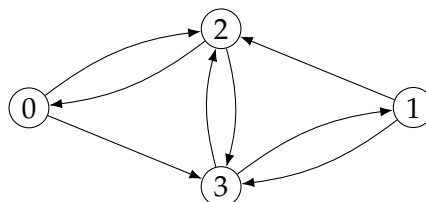
c) G_3 :



Das ist Modell von F_3 , weil $(0, v) \in E_3$ für jedes $v \in V_3$ ist und für jedes $u \in V_3$ mit $u \neq 0$ nur dann $(u, u') \in E_3$ gilt, wenn $u' = 0$ ist.

Aufgabe 10.2 (1 + 1 + 2 = 4 Punkte)

Es sei G folgender Graph:



a) Geben Sie die Adjazenzmatrix A von G an.

Es sei nun $f: V \rightarrow \mathbb{Z}$ eine Funktion und es bezeichne x den Spaltenvektor, d. h. die 4×1 -Matrix,

$$x = \begin{pmatrix} f(0) \\ f(1) \\ f(2) \\ f(3) \end{pmatrix}$$

b) Berechnen Sie Ax .

c) Geben Sie eine konkrete Abbildung $f: V \rightarrow \mathbb{Z}$, die nicht konstant gleich Null ist (d. h., es ist $f(v) \neq 0$ für mindestens ein $v \in V$), sowie eine Zahl $\lambda \in \mathbb{Z}$ mit $Ax = \lambda x$ an, d. h. es gilt:

$$A \begin{pmatrix} f(0) \\ f(1) \\ f(2) \\ f(3) \end{pmatrix} = \begin{pmatrix} \lambda f(0) \\ \lambda f(1) \\ \lambda f(2) \\ \lambda f(3) \end{pmatrix}$$

Tip. Wenn Ihre Adjazenzmatrix richtig ist, dann muss für jedes solche λ gelten: $|\lambda| < 5$.

Lösung 10.2

a)

$$A = \begin{matrix} & \begin{matrix} 0 & 1 & 2 & 3 \end{matrix} \\ \begin{matrix} 0 \\ 1 \\ 2 \\ 3 \end{matrix} & \begin{pmatrix} 0 & 0 & 1 & 1 \\ 0 & 0 & 1 & 1 \\ 1 & 0 & 0 & 1 \\ 0 & 1 & 1 & 0 \end{pmatrix} \end{matrix}$$

b)

$$Ax = \begin{pmatrix} 0 & 0 & 1 & 1 \\ 0 & 0 & 1 & 1 \\ 1 & 0 & 0 & 1 \\ 0 & 1 & 1 & 0 \end{pmatrix} \begin{pmatrix} f(0) \\ f(1) \\ f(2) \\ f(3) \end{pmatrix} = \begin{pmatrix} f(2) + f(3) \\ f(2) + f(3) \\ f(0) + f(3) \\ f(1) + f(2) \end{pmatrix}$$

c) Es gibt so ein f nur für $\lambda \in \{-1, 0, 2\}$:

- $\lambda = -1$: $f(0) = -1, f(1) = -1, f(2) = 0, f(3) = 1$
oder $f(0) = -1, f(1) = -1, f(2) = 1, f(3) = 0$
- $\lambda = 0$: $f(0) = -1, f(1) = 1, f(2) = -1, f(3) = 1$
- $\lambda = 2$: $f(0) = 1, f(1) = 1, f(2) = 1, f(3) = 1$

Man erhält weitere Lösungen, indem man die Funktionswerte von f (alle) mit einer Konstante $c \in \mathbb{Z} \setminus \{0\}$ multipliziert.

Aufgabe 10.3 (2 + 2 + 2 = 6 Punkte)

Geben Sie für jedes $i \in \{1, 2, 3\}$ und jedes $n \in \mathbb{N}_+, n \geq 2$, eine Kantenmenge $E_i = E_{i,n} \subseteq V_n \times V_n$ an, sodass der (gerichtete) Graph $G_i = G_{i,n} = (V_n, E_i)$ mit $V_n = \mathbb{Z}_n$ schlingenfrei ist und folgende Eigenschaft hat:

- a) G_1 : für jedes $v \in V_n$ ist $d^+(v) = 1$
- b) G_2 : für jedes $v \in V_n$ ist $d^-(v) = v$
- c) G_3 : für jedes $v \in V_n$ ist $d^+(v) \neq d^-(v)$ und $d(v) \geq 1$

Verwenden Sie bei Ihrer Definition von E_i keine „Pünktchen“ und achten Sie darauf, dass G_i keine Schlingen enthält. Begründen Sie anschließend jeweils, warum Ihr G_i die geforderte Eigenschaft hat.

Lösung 10.3

- a) $E_1 = \{(u, v) \in V_n \times V_n \mid (u + 1) \bmod n = v\}$
 E_1 ist (nicht nur eine Relation sondern auch) eine Abbildung, also ist $d^+(v) = 1$ für jedes $v \in V_n$.
- b) $E_2 = \{(u, v) \in V_n \times V_n \mid u < v\}$
Für jedes $v \in V_n$ ist $|\{u \in V_n \mid u < v\}| = |\mathbb{Z}_v| = v$, also folgt $d^-(v) = v$.
- c) $E_3 = \{(u, v) \in V_n \times V_n \mid u \text{ ist gerade und } v \text{ ist ungerade}\}$
Es ist $n \geq 2$, also $0, 1 \in V_n$. Für $u \in V_n$ gerade ist damit $d^+(u) > 0$ und $d^-(u) = 0$ und für $v \in V_n$ ungerade gilt $d^+(v) = 0$ und $d^-(v) > 0$ (und es gilt sowohl $d(u) \geq 1$ als auch $d(v) \geq 1$).

Aufgabe 10.4 (1.5 + 1 + 1.5 = 4 Punkte)

Es sei $G = (V, E)$ ein schlingenfreier, ungerichteter Graph. Eine Menge $C \subseteq V$ heißt *Co-Clique* von G , wenn für jede zwei Knoten $u, v \in C$ mit $u \neq v$ gilt: $\{u, v\} \notin E$.

- a) Geben Sie einen schlingenfreien, ungerichteten Graphen $G_1 = (V_1, E_1)$ mit $|V_1| = 7$ an, sodass G_1 zusammenhängend ist und eine Co-Clique C maximaler Größe enthält (d. h., ist $G'_1 = (V'_1, E'_1)$ ebenfalls ein schlingenfreier und zusammenhängender ungerichteter Graph mit $|V'_1| = 7$, so gilt für jede Co-Clique C' von G'_1 : $|C'| \leq |C|$).

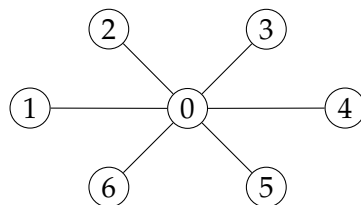
Es sei jetzt für $n \in \mathbb{N}_+$ der Graph $T_n = (V_n, E_n)$ mit $V_n = \{i \in \mathbb{N}_+ \mid i \leq n\}$ gegeben, wobei E_n wie folgt rekursiv definiert ist:

$$E_1 = \emptyset \quad \text{und} \quad E_{n+1} = E_n \cup \{ \{(n+1) \bmod 2, n+1\} \}$$

- b) Zeichnen Sie T_{10} . Beschriften Sie alle Knoten.
- c) Geben Sie für jedes $n \in \mathbb{N}_+$ zwei Co-Cliquen $C_n, D_n \subseteq V_n$ an, sodass $C_n \cap D_n = \emptyset$ und $C_n \cup D_n = V_n$ ist.
Tipp. Anhand der Binärdarstellung (ohne führende Nullen) eines Knoten $v \in V_n$ lässt sich leicht identifizieren, zu welcher der zwei Co-Cliquen v gehört.

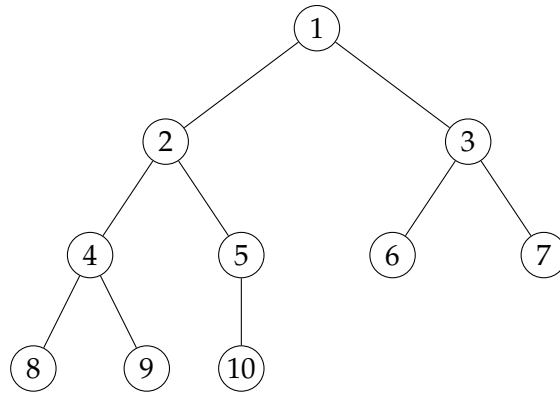
Lösung 10.4

- a) G_1 :



wobei $C = \{1, 2, 3, 4, 5, 6\}$

- b) T_{10} :



c) $C_n = \{v \in V_n \mid |\text{bin}(v)| \text{ gerade}\}$ und $D_n = V_n \setminus C_n$

Aufgabe 10.5 (1 + 2 = 3 Punkte)

Es sei M eine nichtleere Menge und $R \subseteq M \times M$ eine Relation auf M . In Aufgabe 7.5 haben Sie kennengelernt, dass eine R -Clique eine Menge $C \subseteq M$ ist, für die für jedes x und y aus C gilt: $x R y$.

- Zeigen oder widerlegen Sie: Wenn $|M| > 1$ und R reflexiv und symmetrisch ist, dann gibt es eine R -Clique C mit mindestens zwei Elementen (d. h. $|C| \geq 2$).
- Nehmen wir jetzt an, es gäbe zwei R -Cliquen C_1 und C_2 mit $M = C_1 \cup C_2$ und $C_1 \cap C_2 = \emptyset$. Zeigen oder widerlegen Sie: R ist dann eine Äquivalenzrelation (also reflexiv, symmetrisch, und transitiv).

Lösung 10.5

- a) Die Aussage ist **falsch**.

Wenn $R = I_M$, dann ist R reflexiv und symmetrisch, jede R -Clique enthält aber genau ein Element.

Die Aussage ist aber *fast* richtig; denn das ist das einzelne Gegenbeispiel. Fordert man nämlich noch $R \neq I_M$, dann gibt es $x, y \in M$ und $x \neq y$, sodass $(x, y) \in R$ ist. Weil R reflexiv und symmetrisch ist, so ist dann $C = \{x, y\}$ eine R -Clique (mit mindestens zwei Elementen).

- b) Die Aussage ist **falsch**.

R ist dann zwar zwangsweise reflexiv (weil jedes Element $x \in M$ dann einer der zwei Cliquen C_1 und C_2 gehören muss und damit $(x, x) \in R$ gilt), muss aber weder symmetrisch noch transitiv sein, z. B. $M = \{1, 2, 3\}$, $C_1 = \{1\}$, $C_2 = \{2, 3\}$, und $R = \{(1, 1), (1, 2), (2, 2), (2, 3), (3, 2), (3, 3)\}$.