

# Grundbegriffe der Informatik

## Aufgabenblatt 8

Matr.nr.:

--	--	--	--	--	--	--

Nachname:

--

Vorname:

--

Tutorium:

Nr.

--

Name des Tutors:

--

Ausgabe: 10. Dezember 2014

Abgabe: 19. Dezember 2014, 12:30 Uhr  
im GBI-Briefkasten im Untergeschoss  
von Gebäude 50.34

Lösungen werden nur korrigiert, wenn sie

- rechtzeitig,
- in Ihrer eigenen Handschrift,
- mit dieser Seite als Deckblatt und
- in der oberen **linken** Ecke zusammengeheftet  
abgegeben werden.

---

*Vom Tutor auszufüllen:*

erreichte Punkte

Blatt 8:

/ 20 + 0
----------

Blätter 1 – 8:

/ 134 + 17
------------

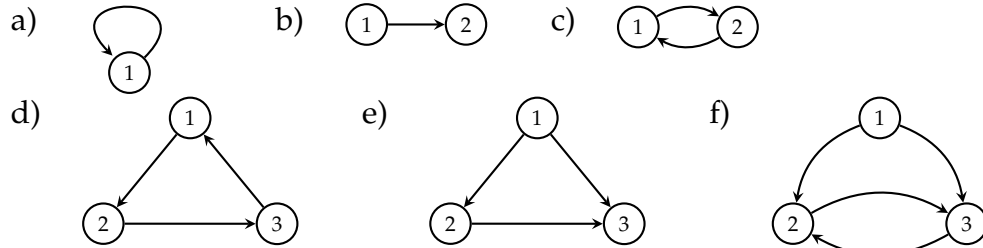
**Aufgabe 8.1 ((0.5 + 0.5 + 1 + 1 + 1 + 1) + 2 = 7 Punkte)**

Für einen gerichteten Graphen  $G = (V, E)$  bezeichnet  $\text{Aut}(G)$  die Menge aller Isomorphismen von  $G$  nach  $G$ , das heißt,

$$\text{Aut}(G) = \{f: V \rightarrow V \text{ bijektiv} \mid \forall x \in V \forall y \in V : (x, y) \in E \iff (f(x), f(y)) \in E\}.$$

Jedes Element von  $\text{Aut}(G)$  heißt *Automorphismus von  $G$*  und das Tupel  $(\text{Aut}(G), \circ)$  heißt *Automorphismengruppe von  $G$* .

i) Geben Sie die Automorphismen der folgenden Graphen an:



ii) Es sei  $n$  eine ganze Zahl mit  $n \geq 2$ . Geben Sie vier verschiedene Graphen  $G_i = (V_i, E_i)$ ,  $i \in \{1, 2, 3, 4\}$ , an so, dass für jedes  $i \in \{1, 2, 3, 4\}$  gilt:  $|V_i| = n$  und  $\text{Aut}(G_i) = \{f: V_i \rightarrow V_i \mid f \text{ ist bijektiv}\}$ .

**Lösung 8.1**

i) a) Der einzige Automorphismus ist die Identität:

$$f: \{1\} \rightarrow \{1\}, \\ v \mapsto v.$$

b) Der einzige Automorphismus ist die Identität:

$$f: \{1, 2\} \rightarrow \{1, 2\}, \\ v \mapsto v.$$

c) Jede bijektive Abbildung zwischen  $V$  und sich selbst ist ein Automorphismus:

$$\left\{ \begin{array}{l} f_1: \{1, 2\} \rightarrow \{1, 2\}, \\ v \mapsto v, \end{array} \right\} \text{ und } \left\{ \begin{array}{l} f_2: \{1, 2\} \rightarrow \{1, 2\}, \\ 1 \mapsto 2, \\ 2 \mapsto 1. \end{array} \right\}$$

d) Die Automorphismen sind die drei „Drehungen um das Zentrum“:

$$\left\{ \begin{array}{l} f_1: \{1, 2, 3\} \rightarrow \{1, 2, 3\}, \\ v \mapsto v, \end{array} \right\}, \left\{ \begin{array}{l} f_2: \{1, 2, 3\} \rightarrow \{1, 2, 3\}, \\ 1 \mapsto 2, \\ 2 \mapsto 3, \\ 3 \mapsto 1, \end{array} \right\}, \left\{ \begin{array}{l} f_3: \{1, 2, 3\} \rightarrow \{1, 2, 3\}, \\ 1 \mapsto 3, \\ 2 \mapsto 1, \\ 3 \mapsto 2. \end{array} \right\}$$

e) Der einzige Automorphismus ist die Identität:

$$f: \{1,2,3\} \rightarrow \{1,2,3\},$$

$$v \mapsto v.$$

f) Die Automorphismen sind die zwei Spiegelungen an der vertikalen Achse:

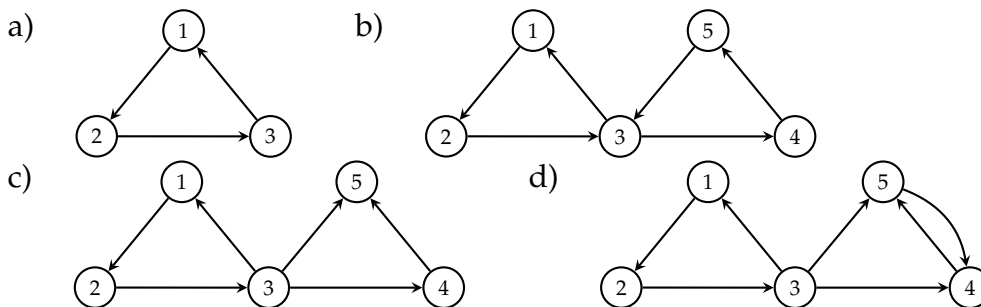
$$\left\{ \begin{array}{l} f_1: \{1,2,3\} \rightarrow \{1,2,3\}, \\ v \mapsto v, \end{array} \right\} \text{ und } \left\{ \begin{array}{l} f_2: \{1,2,3\} \rightarrow \{1,2,3\}, \\ 1 \mapsto 1, \\ 2 \mapsto 3, \\ 3 \mapsto 2. \end{array} \right\}$$

ii) Für jedes  $i \in \{1,2,3,4\}$  sei  $V_i = V = \{v \in \mathbb{Z} \mid 1 \leq v \leq n\}$ . Die vier gesuchten Graphen sind gegeben durch die Knotenmengen  $V_1, V_2, V_3$  und  $V_4$ , und die Kantenmengen  $E_1 = \{\}$ ,  $E_2 = \{(v,v) \mid v \in V\}$ ,  $E_3 = \{(v,w) \in V \times V \mid v \neq w\}$  und  $E_4 = V \times V$ .

### Aufgabe 8.2 (1 + 1 + 1 + 1 = 4 Punkte)

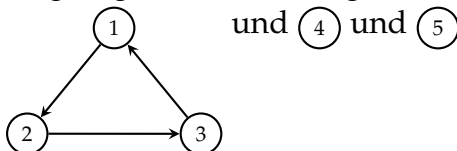
Für einen gerichteten Graphen  $G = (V, E)$  heißt ein Teilgraph  $G' = (V', E')$  von  $G$  genau dann *strenge Zusammenhangskomponente* von  $G$ , wenn  $G'$  streng zusammenhängend ist und für jeden streng zusammenhängenden Teilgraphen  $G'' = (V'', E'')$  von  $G$  entweder  $V' \cap V'' = \emptyset$  oder  $V'' \subseteq V' \wedge E'' \subseteq E'$  gilt.

Geben Sie die strengen Zusammenhangskomponenten der folgenden Graphen an:

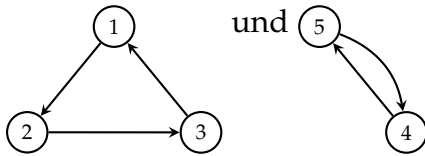


### Lösung 8.2

- a) Es gibt nur eine strenge Zusammenhangskomponente, nämlich der Graph selbst.
- b) Es gibt nur eine strenge Zusammenhangskomponente, nämlich der Graph selbst.
- c) Es gibt genau drei strenge Zusammenhangskomponenten, nämlich



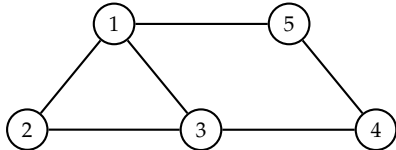
- d) Es gibt genau zwei strenge Zusammenhangskomponenten, nämlich



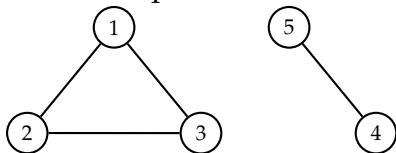
**Aufgabe 8.3 (1 + 1 = 2 Punkte)**

Für einen ungerichteten Graphen  $G = (V, E)$  heißt ein Teilgraph  $G' = (V', E')$  von  $G$  genau dann *aufspannender Baum*, wenn  $G'$  ein Baum ist und  $V' = V$  gilt.

a) Geben Sie einen aufspannenden Baum des folgenden Graphen an:

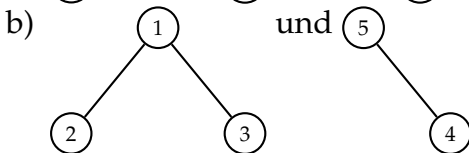
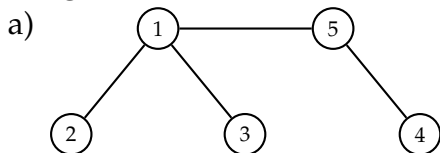


b) Geben Sie für jede Zusammenhangskomponente des folgenden Graphen einen aufspannenden Baum an:



Dabei heißt ein Teilgraph  $G'$  eines ungerichteten Graphen  $G$  genau dann *Zusammenhangskomponente von  $G$* , wenn der zu  $G'$  gehörige gerichtete Graph eine strenge Zusammenhangskomponente des zu  $G$  gehörigen gerichteten Graphen ist.

**Lösung 8.3**



*Achtung:* Die angegebenen Bäume sind nicht die einzig möglichen!

**Aufgabe 8.4 (1 + 1 + 1 + 2 + 2 = 7 Punkte)**

Für jedes  $n \in \mathbb{N}$  sei der gerichtete Graph  $G_n = (V_n, E_n)$  gegeben durch

$$V_n = \{i \in \mathbb{Z} \mid 1 \leq i \leq n\},$$

$$E_n = \{(i, j) \in V_n \times V_n \mid (i \leq n-1 \wedge j = i+1) \vee (i = n \wedge j = 1)\}.$$

a) Zeichnen Sie  $G_1$ ,  $G_2$  und  $G_5$ .

Für jedes  $n \in \mathbb{N}$  und jedes  $k \in \mathbb{N}$  sei  $E_{n,k}$  induktiv definiert durch

$$E_{n,1} = E_n,$$

$$\forall k \in \mathbb{N} \setminus \{1\} : E_{n,k} = E_n \circ E_{n,k-1};$$

Ferner sei  $G_{n,k}$  der gerichtete Graph  $(V_n, E_{n,k})$ .

- b) Zeichnen Sie  $G_{5,2}$  und  $G_{6,2}$ .  
 c) Geben Sie  $E_{n,2}$  in einer Form analog zur Definition von  $E_n$  an.  
 d) Beweisen Sie, dass für jedes  $n \in \mathbb{N}$  gilt: Der Graph  $G_{n,2}$  ist genau dann streng zusammenhängend, wenn die Knotenanzahl  $n$  ungerade ist.  
 e) Wie viele strenge Zusammenhangskomponenten hat  $G_{n,3}$  und wie viele Knoten und Kanten haben diese jeweils?

### Lösung 8.4

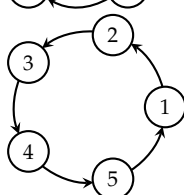
a) Der Graph  $G_1$  ist



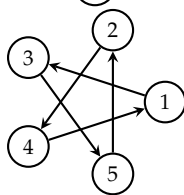
Der Graph  $G_2$  ist



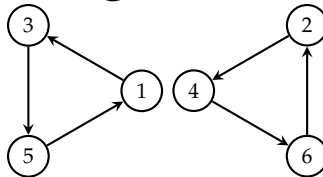
Der Graph  $G_5$  ist



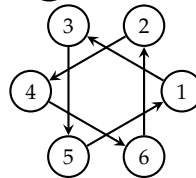
b) Der Graph  $G_{5,2}$  ist



Der Graph  $G_{6,2}$  ist



Eine weitere Darstellung von  $G_{6,2}$  ist



c)

$$E_{n,2} = \{(i, j) \in V_n \times V_n \mid (i \leq n-2 \wedge j = i+2) \vee (i = n-1 \wedge j = 1) \vee (i = n \wedge j = 2)\}.$$

d) *Intuition:* Ist  $n$  ungerade, so ist  $G_{n,2}$  ein Kreis, also streng zusammenhängend. Ist  $n$  gerade, so besteht  $G_{n,2}$  aus zwei Kreisen, ist also nicht streng zusammenhängend.

*Beweis:* Es sei  $n \in \mathbb{N}$ . Der Graph  $G_{n,2}$  hat genau  $n$  Kanten. Für jedes Knotenpaar  $(x, y) \in V_n \times V_n$  gilt genau dann  $(x, y) \in E_{n,2}$ , wenn  $y - x = 2$  oder  $x = n - 1 \wedge y = 1$  oder  $x = n \wedge y = 2$ . Für jedes Knotenpaar  $(x, y) \in V_n \times V_n$  gibt es somit einen Pfad von  $x$  nach  $y$ , wenn  $y - x$  nicht-negativ und gerade ist (im Falle  $y - x = 0$  ist dies der Pfad der Länge 0).

Zunächst sei  $n = 1$ . Dann ist  $G_{n,2}$  streng zusammenhängend.

Jetzt sei  $n$  ungerade und  $n \geq 2$ . Weiter seien  $x$  und  $y$  zwei Knoten von  $G_{n,2}$ .

Fall 1:  $x$  ist ungerade und  $y$  ist gerade. Da  $n - x$  nicht-negativ und gerade ist, existiert ein Pfad  $p = (v_0, v_1, \dots, v_k)$  von  $x$  nach  $n$ . Dann ist  $(v_0, v_1, \dots, v_k, 2)$  ein Pfad von  $x$  nach  $2$ . Da  $y - 2$  nicht-negativ und

gerade ist, existiert ein Pfad  $q = (w_0, w_1, \dots, w_l)$  von 2 nach  $y$ . Dann ist  $(v_0, v_1, \dots, v_k, w_0, w_1, \dots, w_l)$  ein Pfad von  $x$  nach  $y$ .

Fall 2:  $x$  ist gerade und  $y$  ist ungerade. Da  $(n - 1) - x$  nicht-negativ und gerade ist, existiert ein Pfad  $p = (v_0, v_1, \dots, v_k)$  von  $x$  nach  $n - 1$ . Dann ist  $(v_0, v_1, \dots, v_k, 1)$  ein Pfad von  $x$  nach 1. Da  $y - 1$  nicht-negativ und gerade ist, existiert ein Pfad  $q = (w_0, w_1, \dots, w_l)$  von 1 nach  $y$ . Dann ist  $(v_0, v_1, \dots, v_k, w_0, w_1, \dots, w_l)$  ein Pfad von  $x$  nach  $y$ .

Fall 3:  $x \leq y$  und  $x$  und  $y$  sind beide gerade oder beide ungerade. Dann ist  $y - x$  nicht-negativ und gerade. Also gibt es einen Pfad von  $x$  nach  $y$ .

Fall 4:  $x > y$  und  $x$  und  $y$  sind beide gerade oder beide ungerade.

Fall 4.1:  $x$  und  $y$  sind gerade. Da  $(n - 1) - x$  nicht-negativ und gerade ist, existiert ein Pfad  $p = (v_0, v_1, \dots, v_k)$  von  $x$  nach  $n - 1$ . Dann ist  $(v_0, v_1, \dots, v_k, 1)$  ein Pfad von  $x$  nach 1. Da  $n - 1$  nicht-negativ und gerade ist, existiert ein Pfad  $q = (w_0, w_1, \dots, w_l)$  von 1 nach  $n$ . Dann ist  $(w_0, w_1, \dots, w_l, 2)$  ein Pfad von  $x$  nach 2. Da  $y - 2$  nicht-negativ und gerade ist, existiert ein Pfad  $r = (x_0, x_1, \dots, x_m)$  von 2 nach  $y$ . Insgesamt ist  $(v_0, v_1, \dots, v_k, w_0, w_1, \dots, w_l, x_0, x_1, \dots, x_m)$  ein Pfad von  $x$  nach  $y$ .

Fall 4.2:  $x$  und  $y$  sind ungerade. Ähnlich zu eben finden wir Pfade  $(v_0, v_1, \dots, v_k, 2)$ ,  $(w_0, w_1, \dots, w_l, 1)$  und  $(x_0, x_1, \dots, x_m)$  von  $x$  nach 2 bzw. 2 nach 1 bzw. 1 nach  $y$ . Damit ist  $(v_0, v_1, \dots, v_k, w_0, w_1, \dots, w_l, x_0, x_1, \dots, x_m)$  ein Pfad von  $x$  nach  $y$ .

In jedem Fall finden wir einen Pfad von  $x$  nach  $y$ . Damit ist  $G_{n,2}$  streng zusammenhängend.

Nun sei  $n$  gerade. Dann ist  $n \geq 2$ . Also enthält  $V_n$  die Knoten 1 und 2. Angenommen es existiert ein Pfad  $p = (v_0, v_1, \dots, v_k)$  von  $v_0 = 1$  nach  $v_k = 2$ . Für jedes  $i \in \mathbb{Z}_k$  ist  $(v_i, v_{i+1}) \in E_{n,2}$ , also  $v_{i+1} - v_i = 2$  oder  $v_i = n \wedge v_{i+1} = 2$ , und somit  $v_{i+1} - v_i$  gerade (beachte, dass  $n$  gerade ist). Da  $v_0 = 1$  ungerade ist, ist für jedes  $i \in \mathbb{Z}_k$  der Knoten  $v_{i+1} = 2 + v_i$  ungerade (dies sieht man per vollständige Induktion ein). Insbesondere ist  $v_k$  ungerade. Dies steht im Widerspruch zu  $v_k = 2$ . Somit existiert kein Pfad von 1 nach 2. Damit ist  $G_{n,2}$  nicht streng zusammenhängend.

Insgesamt gilt also die behauptete Äquivalenz.

e) Falls  $n$  ein Vielfaches von 3 ist, so hat  $G_{n,3}$  genau drei strenge Zusammenhangskomponenten, jede dieser Komponenten hat  $n/3$  Knoten und ebenso viele Kanten.

Falls  $n$  kein Vielfaches von 3 ist, so hat  $G_{n,3}$  genau eine strenge Zusammenhangskomponente und diese hat  $n$  Knoten und ebenso viele Kanten.